


# UPPSNAPPARENS JULKALENDER



1

Vilket tal hör inte ihop med de andra?



2

Skriv tre på varandra följande tal som ger rätt summa.

$$\square + \square + \square = 18$$



3

Kom på ett namn som passar in på kodspråket.

?	?	?	?	?	?



4

Hur många paket måste du flytta från den stora säcken till den lilla säcken, för att båda ska innehålla lika många paket?

- Den stora säcken innehåller 15 paket.
- Den lilla säcken innehåller 5 paket.



5

Lista ut antalet juldekorationer.



- Det finns sammanlagt 9 dekorationer i julgranen.
- Bollarna är två fler än hjärtana.
- Snöflingorna är två färre än bollarna.

6

Hur många mössor och halsdukar köpte barnen?

- Inköpen kostade sammanlagt 15 €.


PRISLISTA	
	4 €
	7 €





7

Vilken tomte tillhör påsen med mellanmål?



- Titus har två äpplen färre än Torsten.
- Tua har lika många godisar som Torsten, Ture och Titus sammanlagt.

8

Vilket tal motsvarar bilderna?

$$\text{cup} + \text{donut} = 19$$

$$\text{cup} - \text{donut} = 1$$

$$\text{cup} + \text{cup} = \text{candy}$$

9

Hur mycket kostar presenterna sammanlagt?

<p>sammanlagt 15 €</p>	<p>sammanlagt 25 €</p>	<p>sammanlagt ?</p>
----------------------------	----------------------------	-------------------------

10

Är situationen möjlig?  
Sätt kryss.



Situation	Ja	Nej
1. Tre renar har sammanlagt 12 ben.		
2. Sju renar drar jultomtens släde parvis.		
3. Tio renar ställer sig i tre rader så att de är lika många renar i varje rad.		
4. Varje ren har två tomtar som sköter om den. Sex renar har sammanlagt fler än 10 tomtar som sköter dem.		

11

Granska regeln.  
Hur många skulle det finnas av de olika pepparkakorna, om det var sammanlagt 18 pepparkakor i raden?



12

Lista ut.  
En tomte blundar och tar yllesockor ur kassen. Hur många sockor måste tomten som mest ta ur kassen, för att med säkerhet få två blå sockor?





13

Lista ut registernumret för jultomtens släde.

3	4	1	9
---	---	---	---

Rätt siffror på fel platser.

7	1	3	5
---	---	---	---

Två rätta siffror på rätt platser.



14

Lista ut i vilken ordning skidåkarna åker.

1.



2.



3.



4.



- Kalle är mellan två skidåkare.
- Framför Rea finns bara en skidåkare.
- Niko är före Pia.

15

Hur många påsar med pepparkakor och muffins finns det?

- Det finns sammanlagt 17 bakverk.



16

Lista ut.

En tomte blundar och tar godisar ur burken. Hur många godisar måste tomten som mest ta, för att med säkerhet få en blå och en gul godis?



17

Granska regeln.


Hur många skulle det finnas av de olika klädesplaggen, om det var sammanlagt 20 plagg i raden?



18

Hur många pepparkakor måste du flytta från den stora burken till den lilla burken för att det ska vara lika många pepparkakor i båda burkarna?

- Den stora burken innehåller 16 pepparkakor.
- Den lilla burken innehåller 2 pepparkakor.





19

Vilka tal motsvarar bilderna?

$$\begin{aligned}
 & \text{1 dinosaur} + \text{1 lion} = 11 \\
 & \text{2 dinosaurs} + \text{1 lion} = 16 \\
 & \text{2 lions} = \text{1 robot} - 5
 \end{aligned}$$

20

Lista ut vad en åklapp och en puck kostar.

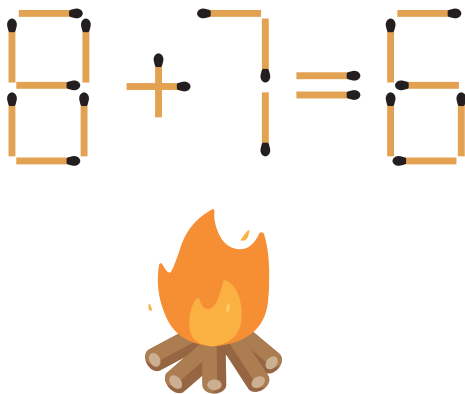
- Pucken är billigare än åklappen.



sammanlagt 30 €

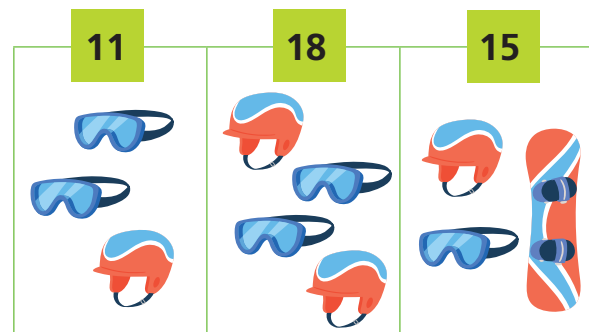
21

Flytta två tändstickor så att additionen stämmer.



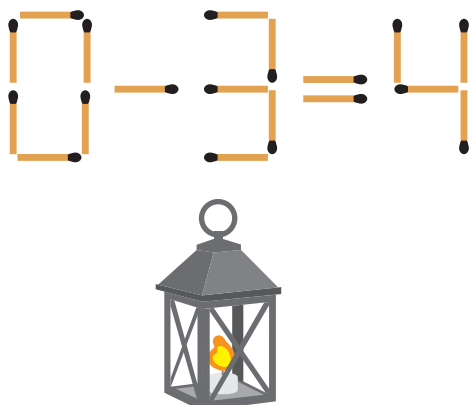
22

Vilka tal motsvarar bilderna?



23

Flytta två tändstickor så att subtraktionen stämmer.



24

Lista ut hur mycket en stor och en liten julklapp väger.

- Ett rött paket väger mer än ett gult paket.



sammanlagt 21 kg

