




Hoksaajan pulmalliset kevätpörräilyt



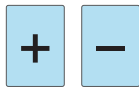
Hoksaajan pulmatehtävien avulla pääset sukeltamaan keväiseen tunnelmaan yhdessä oppilaiden kanssa matikantehtäviä ratkoen.

Tehtävät on tarkoitettu ensisijaisesti 3.-4.-luokkalaisten käyttöön ja niiden vastaukset voi merkitä valmiisiin vastauskortteihin.





1 Valitse oikea merkki.



$$42 \quad 15 \quad 17 \quad 4 = 40$$



2 Kuinka kauan Piin pitää odottaa seuraavaa bussia?

- Bussi lähtee pysäkiltä 9 minuutin välein.
- Ensimmäisen kerran bussi lähtee pysäkiltä klo 7.15.
- Pii on pysäkillä klo 7.45.



3 Merkitse mitta-astioiden lukumäärät.

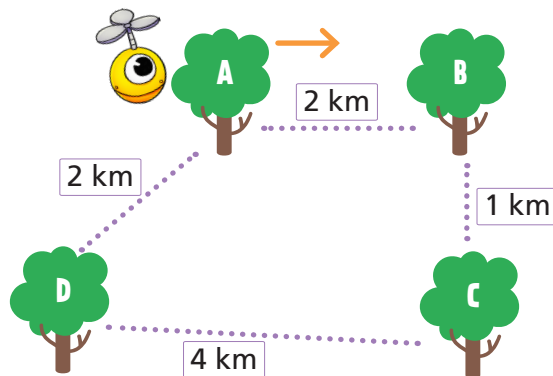
Pii täyttää kastelukannun mahdollisimman pienellä määrällä mitta-astioita.



4 Merkitse kirjain.

Minkä puun luo Pii päätyy, kun se kiertää reittiä

21 km? 52 km? 90 km?



5 Kuinka monta pähkinää Kurre saa?

- Kätkössä on 31 pähkinää.
- Kurre kahmaisee pähkinöistä osan ja jakaa ne tasan itsensä, Ollin ja Oonan kanssa.
- Loput pähkinät annetaan Oskulle ja Oilille, jotka jakavat ne tasan. Molemmat saavat 5 pähkinää.






6 Mitä lukuja kuvat tarkoittavat?

$$\text{hat} + \text{sunglasses} = \text{bicycle}$$

$$2 \text{ sunglasses} + \text{hat} + \text{sunglasses} + \text{hat} = 44$$

$$3 \text{ bicycles} + \text{sunglasses} = 51$$





7

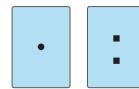
Merkitse setelien lukumäärät.

- Seteleitä on yhteensä 12.
- Kukkarossa on 5 euron, 10 euron ja 20 euron seteleitä.



8


Valitse oikea merkki.



9


Päättele jäätelöiden lukumäärät.

- Suklaatuutteja ja mansikkatuutteja on yhteensä 20. Mansikkatuutteja on kuusi enemmän kuin suklaatuutteja.
- Mansikkatuuttien lukumäärä on puolet päärynätuuttien lukumäärästä.



10

Mitä lukuja kuvat tarkoittavat?



11

Kuinka paljon puutarhavälineet maksavat?

- Välineet maksavat yhteensä 80,40 €.
- Kottikärryt maksavat yhtä paljon kuin lapio ja kastelukannu yhteensä.
- Lapio maksaa 20 € enemmän kuin kastelukannu.



12

Mitä lukuja kuvat tarkoittavat?

